



Questionnaire sur l'exposition à destination des collégiens et lycéens

- 1) Complète cette frise chronologique et sa légende au fur et à mesure de ta visite :
- indique les changements de nationalité en utilisant deux couleurs.
 - indique dans les cercles les bons numéros concernant l'histoire de l'exploitation du charbon sarro-mosellan

1800 1820 1840 1860 1880 1900 1920 1940 1960

①

La Sarre

La Moselle

Les changements de nationalité de la Sarre et de la Moselle :

Période durant laquelle ce territoire est allemand

Période durant laquelle ce territoire est français
(ou bien ce territoire se trouve administré par la France)

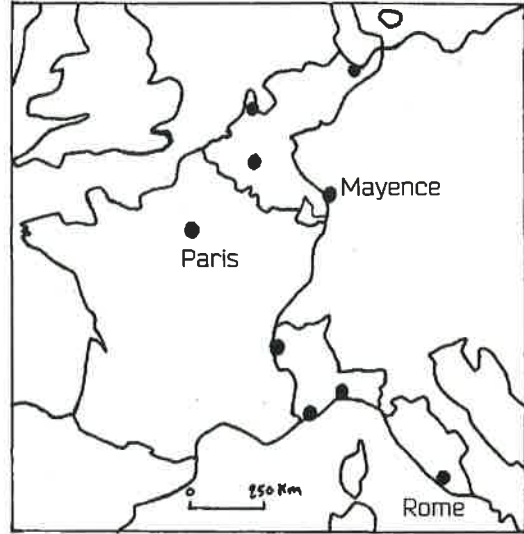
Les étapes de l'exploitation du gisement de charbon sarro-mosellan :

- ① Le charbon est exploité en Sarre depuis le XV^e siècle.
- Napoléon fait explorer le gisement sarrois.
- Les travaux de reconnaissance du gisement se concentrent en Moselle.
- Première amorce d'extraction du charbon en Moselle, à Shoeneck.
- Première exploitation industrielle du charbon en Moselle, à Petite-Rosselle
- Nationalisation des mines de charbon française, création des HBL
- Naissance de la CECA, le gisement sarro-mosellan est exploité en commun

La Sarre est française pendant la période révolutionnaire.

2) Complète cette carte de la France à l'époque de la période révolutionnaire :

- La France en 1789
- Territoires acquis par la France pendant la période révolutionnaire
- Département français de la Sarre



3) Quelles sont ces réalisations de Napoléon pour faciliter l'exploitation du charbon sarrois ?



.....




.....

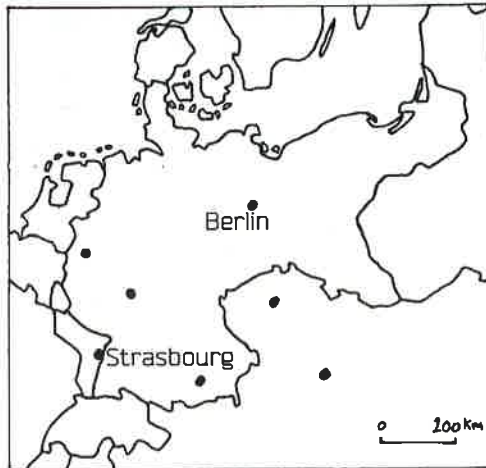
4) Les Sarrois sont-ils heureux d'être français pendant la période révolutionnaire ? Relève des points positifs et des points négatifs :

Points positifs	Points négatifs
.....
.....
.....
.....
.....

La Moselle est allemande pendant l'Annexion.

5) Complète cette carte de l'Annexion en 1871 :

-  France
-  Empire allemand
-  Alsace-Moselle



6) Le charbon est-il exploité en Moselle durant l'Annexion ? Justifiez ta réponse en relevant une information qui le prouve.

.....

.....

.....

7) Identifie ces objets attestant que la Moselle se situe alors en territoire allemand :



.....

.....

.....

.....

.....

.....

.....

.....

.....

.....

.....

.....

8) Les Mosellans se sentent-ils allemands durant l'Annexion ? Justifiez ta réponse en relevant une information qui le prouve.

.....

.....

.....

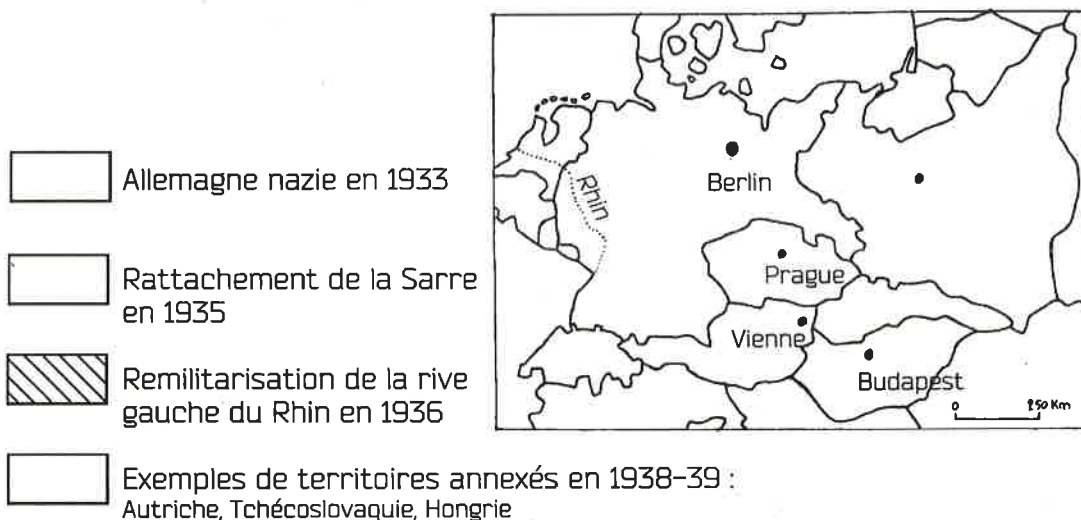
Entre les deux guerres mondiales, la Sarre est occupée par la France, puis rattachée à l'Allemagne nazie.

9) Associe chaque photographie à la bonne légende

- ① Le charbon sarrois est exploité par les « Mines Domaniales françaises de la Sarre »
- ② La Mission française des Mines de la Sarre installe son siège à Sarrebruck.
- ③ Les ingénieurs français dirigent les mineurs allemands.
- ④ L'armée française occupe la Sarre pour vérifier que la l'Allemagne tiendra ses engagements.
- ⑤ Les entreprises françaises vendent leurs produits en Sarre.



10) Complète cette carte de l'expansion du Grand Reich dans les années Trente :



11) Le nazisme en campagne pour le rattachement de la Sarre à l'Allemagne : identifie sur ces documents les éléments de la propagande nazie.

.....

.....

.....



.....

.....

.....

.....

.....

.....



.....

.....

.....


12) Suite à cette active propagande nazie, quel est le pourcentage de Sarrois votant pour le rattachement de la Sarre à l'Allemagne nazie en 1935 ?

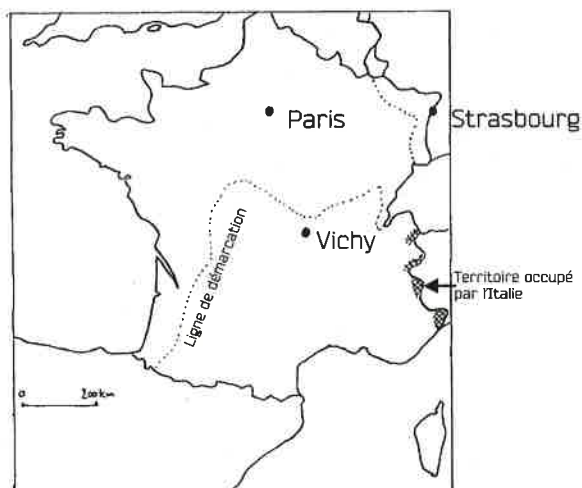
.....

.....

.....






13) Complète cette carte de l'occupation de la France par l'Allemagne nazie pendant la Seconde Guerre mondiale.

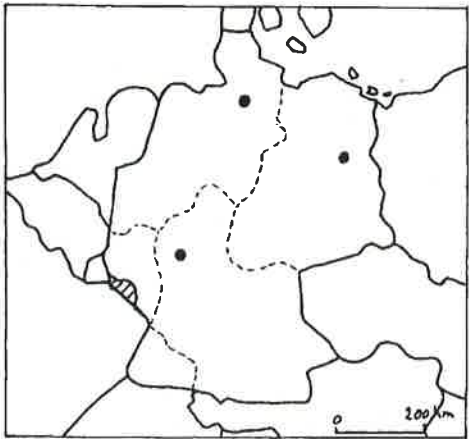
-  Allemagne nazie
-  Alsace-Moselle annexée au Grand Reich
-  France occupée par l'armée allemande, au nord de la ligne de démarcation
-  France « libre », au sud de la ligne de démarcation



Au début de la Guerre froide, la Sarre fait partie de la zone d'occupation française.

14) Complète cette carte de l'Allemagne divisée en quatre zones d'occupation de 1945 à 1949 :

-  Zone d'occupation soviétique : l'Est
-  Zone d'occupation américaine : le Sud-Est.
-  Zone d'occupation britannique : le Nord-Ouest
-  Zone d'occupation française : le Sud-Ouest
-  Le statut particulier de la Sarre



15) La vie quotidienne des Sarrois : associe chaque photographie à la bonne légende

- ① La Sarre a un statut international particulier, les Sarrois ont leur propre nationalité
- ② L'influence culturelle de la France est grande en Sarre.
- ③ Le franchissement de la frontière Sarre-Moselle est facilité par les autorités françaises.
- ④ La Sarre possède sa propre monnaie



16) Les Sarrois sont consultés par référendum en 1955. Sur quel sujet doivent-ils se prononcer ? Quel est le résultat du vote ? Qu'est ce que cela révèle sur l'état d'esprit des Sarrois ?

.....

.....

.....

Le charbon et l'acier sarro-mosellans sont à l'origine de la construction européenne.

17) Quels indices peux-tu relever, qui montrent que l'exploitation du charbon après la guerre est en plein essor, en Moselle comme en Sarre ?

.....
.....
.....
.....
.....

18) Observe la vidéo sur la naissance de la CECA et complète ce texte :



Le 9 mai 1950, Robert _____ fait une déclaration au salon de l'Horloge du Quai d'Orsay (ministère des Affaires étrangères) :

« L'Europe n'a pas été faite, nous avons eu la _____
L'Europe ne se fera pas d'un coup, ni dans une construction d'ensemble. Elle se fera par des réalisations _____, créant d'abord une solidarité de fait. »

Robert Schuman propose de « placer l'ensemble de la production franco-allemande de _____ et d'_____ sous une haute autorité commune dans une organisation ouverte à la participation des autres _____ ».

Les gouvernements allemand, italien, belge, néerlandais et luxembourgeois répondent immédiatement à l'appel français.

Le 18 avril 19____, les six puissances signent le traité.

Pour la première fois dans l'histoire de l'Europe, plusieurs peuples autrefois _____ acceptaient de se soumettre à des règles _____.

19) Conclusion : complète cette carte de la naissance de la CECA, ferment de la réconciliation européenne.

Les six Etats ayant signé le traité de Paris donnant naissance à la CECA en 1951.



